

منهمج

مهارات التفكير

و



منتدى سور الأزيكية

www.books4all.net

د. صالح بن يحيى الزهراني
دلال محمد حسين
ثائر غازي حسين



منتدى سور الأزبكية

WWW.BOOKS4ALL.NET

<https://www.facebook.com/books4all.net>



منهج مهارات التفكير

9

رقم التصنيف: 370.157

المؤلف ومن هو في حكمه، د. صالح الزهراني، دلال حسين، نادر حسين

عنوان الكتاب: منهج مهارات التفكير 9

رقم الإيداع: 2008/6/1898

الترقيم الدولي: 4-52-454-9957-978 ISBN:

الموضوع الرئيسي: التفكير / علم النفس / العمليات العقلية / الأطفال / رعاية
الطفولة / التعلم

بيانات النشر: دار ديبونو للنشر والتوزيع عمان الأردن

* تم إعداد بيانات الفهرسك والتصنيف الأوليك من قبل دائرة المكتبة الوطنية

حقوق الطبع محفوظة للناشر

الطبعة الأولى

2010 م

ديبونو للطباعة والنشر والتوزيع

عضواتحاد الناشرين الأردنيين

عضواتحاد الناشرين العرب

حقوق الطبع والنشر محفوظة لمركز ديبونو لتعليم التفكير. ولا يجوز إنتاج أي جزء من هذه المادة أو تخزينه على أي جهاز أو وسيلة تخزين أو نقله بأي شكل أو وسيلة سواء كانت إلكترونية أو البنية أو بالنسخ والتصوير أو بالتسجيل وأي طريقة أخرى إلا بموافقة خطية مسبقة من مركز ديبونو لتعليم التفكير.

يطلب هذا الكتاب مباشرة من مركز ديبونو لتعليم التفكير

عمان شارع الملكة رانيا مجمع العميد التجاري مبنى 320

مقابل مطروحات لبنى ط4

هاتف: 962 6 5337003 . 962 6 5337029

فاكس: 962 6 5337007

ص. ب. 831 الجبهة 1941 المملكة الأردنية الهاشمية

E - mail: info@debono.edu.jo

www. debono.edu.jo



9

منهج مهارات التفكير

منهج مستقل لطلبة المدارس

تأليف

د. صالح بن يحيى الزهراني

دلال محمد حسين

ثامر غازي حسين

الناشر

ديبونو للطباعة والنشر والتوزيع

بِسْمِ اللَّهِ الرَّحْمَنِ الرَّحِيمِ

﴿ قَالُوا سُبْحَانَكَ لَا عِلْمَ لَنَا إِلَّا مَا عَلَّمْتَنَا إِنَّكَ أَنْتَ الْعَلِيمُ

الْحَكِيمُ ﴿٣٢﴾

صِدْقُ اللَّهِ الْعَظِيمِ

(البقرة: 32)

ما يتخيله ويصدقه عقل اطراء منا،
فانه قادر على تحقيقه

بالحسنه



المحتويات

الصفحة	المهارة
11	توقع ماذا سيحدث
23	أوجد طرقاً أخرى
29	تصنيف الأشياء إلى فئات
35	ترتيب المفاهيم حسب الوقت
39	مراقبة الأشياء بعناية
43	ترتيب الأولويات
51	الأهداف
57	الحل الإبداعي للمشكلات
61	الأسئلة
67	إعادة التصميم
75	تحديد المشكلات المستقبلية
83	تحليل التصاميم






مهارة توقع ماذا سيحدث

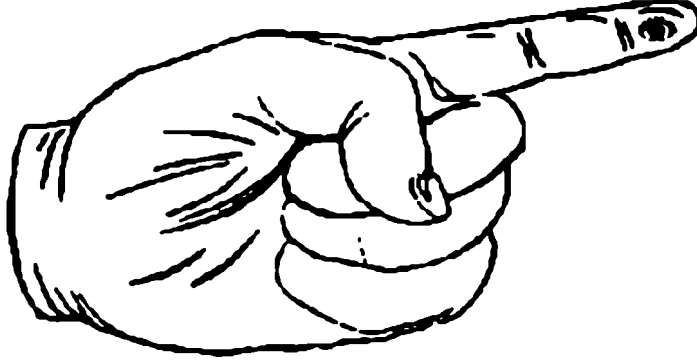




تخيل أن للغيوم خيوطاً تتدلى منها إلى الأرض، ماذا
تتوقع أن يحدث؟



تخيل ان لك عيناً في نهاية اصبعك، ماذا تتوقع ان يحدث؟



تخيل أن أنفك يقع في أعلى رأسك، ماذا تتوقع أن يحدث؟




تخيل أن جميع سكان الأرض لا يعرفون القراءة، ماذا
تتوقع أن يحدث؟



تخيل أن الكرة الأرضية مربعة الشكل وليست
بيضاوية، ماذا تتوقع أن يحدث؟



تخيل ان الأشجار تستطيع السير، ماذا تتوقع ان يحدث؟




تخيل أن هناك طيور ذات حجم كبير وتستطيع
حمل الإنسان، ماذا تتوقع أن يحدث؟



تخيّل أن الأشخاص عندما يفكرون تظهر افكارهم
على شكل فقاعات، ويستطيع الآخرون قراءتها، ماذا
تتوقع أن يحدث؟



تخيل أن الإنسان يستطيع التنفس داخل الماء، ماذا
تتوقع أن يحدث؟



تخيل أن الحيوانات تتحدث، ماذا تتوقع أن يحدث؟



.....

.....

.....

.....

.....

.....

.....

.....

.....

.....

.....

.....

.....

.....

.....

.....

.....

.....

.....


.....

.....

.....

.....

مهارة
أوجد طريقاً أخرى






هل تستطيع ان تتعامل مع الرقم (24) بطرق مختلفة؟

ن 12×2


ن $2 + 48$

.....
.....
.....
.....

انظر بطرق مختلفة للكرسي



كم هي الطرق المختلفة التي يمكنك أن تنظر بها للنقود؟



حوادث السيارات كثيرة جداً، وينظر الجميع إلى هذه المشكلة بأن سببها هو السرعة الزائدة، هل تستطيع إيجاد طرق أخرى للنظر في أسباب المشكلة؟



.....
.....
.....
.....
.....
.....
.....
.....
.....
.....


.....
.....

يتناول الناس الطعام بشكل مستمر , وينظرون إليه على انه وسيلة تبقيهم على قيد الحياة. هل تستطيع إيجاد طرق بديلة تنظر من خلالها إلى الطعام.






مهارة
تصنيف الأشياء إلى فئات





يمكن وضع المجموعات التالية المكونة من ثلاثة اشياء في فئة مشتركة. اولاً حاول إيجاد خاصية متشابهة تخص الأشياء الثلاثة في مجموعة.
ثم دوّن اسم الفئة التي يمكن ان تضع هذه الأشياء فيها.

الخصائص المتشابهة	الأشياء
طعام	تفاحة، لحم، جبن.

والآن ما هي بعض الأشياء المشتركة لك لتقوم بتصنيفها	
مصنوعة من المعدن	1 المغناطيس، مقص، مشبك ورق.
	2 قلم رصاص، كتاب، شجرة
	3 مطرقة، قرميد، صخر
	4 فلين، جبل جليد، تفاحة.
	5 إطار، عملة، عجلة.
	6 سياج، عمود، جدار
اشكال رباعية الأضلاع.	7 
	8 الأرقام: 13، 11، 7
	9 الأرقام: 36، 64، 16.
	10 الأرقام: 36، 15، 6
	11 المثلثات، المربعات، الخماسيات
	12 الكلمات: يمشي، يمسك، يتسلق.



	13 الكلمات: انت، هي، هذا.
حشرات	14 خنفساء، نملة، فراشة.
	15 حرارة، ضوء، صوت.
	16 ارنب، بقرة، غزال.
	17 الاحتكاك، الجاذبية، الدفع.
	18 ثلج، بخار، ضباب.
	19 نهر الجليد، الرياح، فياضانات.
	20 الخلية الجافة، البطارية، المولد.
	21 الدهون، الكربوهيدرات، البروتين
	22 اليورانيوم، الفحم، اشعة الشمس
	23 قنديل البحر، مرجان، إسفنج.
	24 صدى، رعد، موسيقى.
	25 الكبريت، الأوكسجين، الحديد
	26 قطن، صوف، قنب.
	27 افعى، تمساح امريكا، سحلية
	28 رافعة، بكرة، منحدر.
	29 عين، تلسكوب، آلة تصوير.
	30 التركيب الضوئي، الظلال، كهرضوئي.
احتياجات الإنسان	31 الأكل، الشرب، النوم.

الملابس: قبعة، جوارب، وزرة، حذاء، بوط، كرة مضرب، ظل.				
ملابس الجسم		ملابس الرأس		ملابس القدم

الغذية: حليب، جزر، جبن، تفاح، بطيخ، بطاطا، زبدة، قشدة، كمشري، توت، بصل، موز.				
غذية يومية		خضراوات		فواكه

الرياضة: السباحة، البيسبول، كرة السلة، الجري، الفوس، القفز العالي، كرة القدم، الهوكي، الإبحار، رمي الكرة الحديدية.				
رياضات الكرة		العاب رياضية		رياضات مائية




كلمات: قبعة، قيادة، سريع، ثقيل، قتال، عالي، تفاحة، يمشي، يتسلق، جميل، سرير، قلم.

صفات		الفعال		اسماء



مهارة
ترتيب المفاهيم حسب الوقت





المفاهيم التالية مختلطة. اعد ترتيبها بوضع الأشياء التي تحدث أولاً في البداية، والأشياء التي تحدث أخيراً في النهاية.

المفاهيم المرتبطة	الترتيب حسب الحدوث من الأول إلى الأخير
توفير - إنفاق كسب	كسب توفير - إنفاق

1 إعادة سماع الهاتف التحدث	إدارة قرص الهاتف إعادة سماع الهاتف التحدث
2 يمضغ طعاماً يسحب - يلقي	
3 بذور حرث الأرض حصاد	
4 إطلاق تعبئة تسديد	
5 ختم كتابة إرسال بالبريد تسليم	
6 امتطاء ركوب تركيب اللجام	
7 ينافس - يتدرب - يفوز	
8 يقص - يخيط يقيس	
9 الفسق الظهر - الفجر منتصف الليل	الفجر الظهر - الفسق منتصف الليل
10 رعد فيضان مطر برق	
11 يرقة الفراشة بيضة فراشة	
12 صيف شتاء ربيع	
13 سيارة حوامة طائرة دراجة	

	14 ساعة الثمن ساعة شمسية ساعة رمليه
حملة ترشيح انتخاب	15 انتخاب ترشيح حملة
	16 اكتشاف بيع تصنيع بحث
	17 تاليف تدريب اداء
	18 غزل حياكة - قمن خياط
	19 طحن حصاد خبز اكل
	20 منظر طبيعي تصميم رسم بناء
	21 بيع اعلان تصنيع شراء



مهارة مراقبة الأشياء بعناية





جذع الشجر دائري. لماذا؟
 إشارات الوقوف حمراء. لماذا؟
 أقلام الرصاص مصنوعة من الخشب. لماذا؟
 الأسماك لديها حراشف. لماذا؟
 إن أغلب الأشياء التي تخصصنا لديها خصائص أو مميزات خاصة يمكننا مراقبتها
 إذا نظرنا بعناية.

الشكل	الاستخدامات	الأجزاء
اللون	المواد	الحجم

الاشياء	الخصائص	اسباب الخاصية
قرميد	صلب خشن ثقيل	<ul style="list-style-type: none"> • لا ينكسر او يهترئ • يلتصق الإسمنت بقوة • لا يسقط الجدار بسهولة • يركب فوق بعضه بسهولة لينكس جدراناً.

الاشياء	الخصائص	اسباب الخاصية
1 عملة		
2 علم		



		3 الشجرة
		4 قلم رصاص
		5 إطار السيارة




مهارة ترتيب الأولويات






يطلب منك احد اصدقائك المقربين ان تعيره لعبتك المفضلة. ما العوامل التي سوف تركز عليها من بين العوامل الآتية قبل إعارتك اللعبة له؟
هل تثق بصديقك؟
ما مدى محافظته على اللعبة؟
متى سيعيدها لك؟
هل تقتنع بأنه في حاجة إليها؟
رتب هذه العوامل حسب الأهمية.




عند تفكيرك بمهنة المستقبل. ما هي الأولويات الأكثر أهمية التي يجب أن تركز عليها لكي تقوم بصنع قرارك حول مهنة المستقبل؟



قامت مع افراد اسرتك بالذهاب إلى بيت جدك الذي يقطن خارج المدينة وفي
اثناء سيركم ليلا تعطلت السيارة التي تستقلونها، فقام والدك نتيجة لذلك
بوضع مجموعة من الحلول الآتية لهذه المشكلة:

- محاولة إصلاح السيارة.
 - إيقاف إحدى السيارات المارة، والذهاب لإحضار فني لتصليح السيارة.
 - محاولة استدعاء أحد الأقارب للمساعدة في إصلاح السيارة.
 - البقاء داخل السيارة والانتظار حتى الصباح .
- من تتبعك للحلول التي قام والدك بوضعها، قم بالتفكير بهذه الحلول،
وركز تفكيرك على أهم حلين تم طرحهما، وفسر سبب اختيارك لهما



.....

.....

.....

.....

.....

.....

.....

.....

.....

.....

.....


.....

.....

.....

.....

ضلّ مجموعة من الأطفال طريقهم في إحدى الطرق الصحراوية، وقد تم إرسال فريق للبحث عنهم، وكنت قائداً لهذا الفريق.
قم بوضع جميع الاقتراحات التي يمكن أن تساعدك في البحث عنهم، ثم اختر أهم هذه الاقتراحات، واذكر سبب اختيارك لها.



.....

.....

.....

.....

.....

.....

.....


.....

.....

.....

.....

كَلَّفَتْ بوضع مجموعة من الاقتراحات للحد من مشكلة الحوادث المرورية في بلدك. ما العوامل التي سوف تطرحها؟ وما أهم عامل من هذه العوامل يمكن أن تهتم به؟ واذكر سبب اهتمامك به؟



.....

.....

.....

.....

.....

.....

.....

.....


.....

.....

.....

.....

تخيل أنك ستقضي عاما كاملا في بلد آخر وذلك من أجل الدراسة. وقد
قمت باستئجار غرفة في ذلك البلد من أجل استخدامها للنوم والدراسة.
ماذا ستكون أولوياتك في اختيار الأثاث لفرفتك؟ اذكر سبب اختيارك لكل
أولوية من الأولويات التي قمت بوضعها.



.....

.....

.....

.....

.....

.....

.....

.....

.....

.....

.....

.....

.....

.....

.....

.....

.....

.....

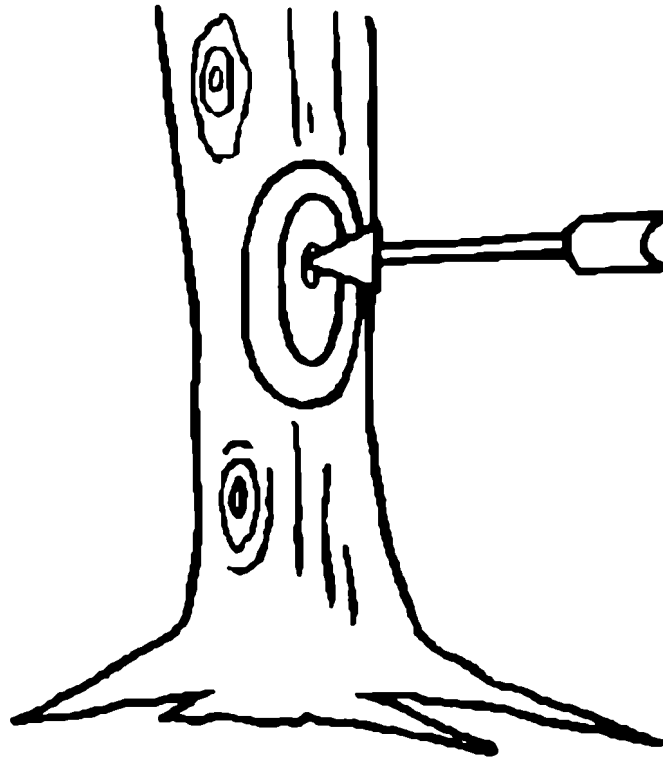
.....

.....

.....

.....

مهارة الأهداف





محطة تلفزيونية محلية طلبت منك ان تقدم افكار حول برنامج تلفزيوني جديد للشباب.
ما هي الاهداف التي ستسعى لتحقيقها خلال تصميمك لهذا البرنامج؟

تنوي القيام برحلة مع مجموعة من اصدقائك، ما الاهداف التي تضعها قبل البدء بهذه الرحلة؟



تخيل نفسك قائدا لمركبة فضائية تقترب من الأرض قادمة من كوكب آخر، ومن المحتمل ان تصطدم هذه المركبة بالأرض. ما الأهداف التي ستضعها في تلك اللحظات لكي تعمل على تنظيم تفكيرك تفاديا لاصطدام هذه المركبة بالأرض؟

حدد أهم هدف لكل شخص من الأشخاص المذكورين آتيا:


الشخص	الهدف
التاجر	
المدرس	
الأب	
الشرطي	
النجار	

أحد طلاب صفك الذي انتقل إلى مدرسة أخرى قبل فترة طويلة، تشاهده في أحد الأيام وتحدث معه عن أحواله، فتجد بأنه أصبح طالباً منظمًا ومتفوقًا وناجحًا في دراسته وفي حياته. باعتقادك ما الأهداف التي وضعها هذا الطالب وتعامل معها فأدت إلى نجاحه وتفوقه؟






مهارة
الحل الإبداعي للمشكلات







هل تستطيع ابتكار ثلاث افكار جيدة او اكثر لتغيير تصميم كرة القدم لتكون اكثر جاذبية؟



هل تستطيع ان تفكر في ثلاث طرق لإخراج كرة تنس طاولة من قاع انبوب مثبت رأسياً وطوله متر واحد وارضيته مثبتة بخرسانة اسمنتية؟ مع ملاحظة ان الأنبوب اوسع قليلاً من الكرة. وذلك دون ان تتلف الأنبوب ولا الكرة ولا الخرسانة الأسمنتية.



مهارة الأسئلة





في اثناء وجودك في احد الأماكن العامة تعثر على حقيبة تحتوي على مبلغ من النقود. فتضع الحقيبة في السيارة استعداداً لتسليمها إلى مركز الشرطة، وقبل مغادرتك المكان يأتي إليك أحد الأشخاص ويسألك إن كنت عثرت على حقيبة ما.
انت ترغب تسليمه الحقيبة ولكن عليك ان تتأكد من انه هو صاحب الحقيبة. ما الأسئلة التي ستطرحها عليه؟

تتعطل سيارتك في احد الشوارع، وفجأة يقف احد الأشخاص فيدعي انه يعمل ميكانيكيا . ما الأسئلة التي ستطرحها على ذلك الشخص قبل ان تسمح له بتصليح سيارتك؟



وجدت طفلا ضالا في احد الأسواق التجارية. ما الأسئلة التي ستطرحها عليه حتى تستطيع ان ترشده إلى أسرته؟

لديك مؤسسة تجارية مختصة في مجال تسويق المواد الغذائية، وترغب في مقابلة مجموعة من الأشخاص لكي تختار اقدمهم للعمل في المؤسسة بوظيفة مندوب مبيعات. ما الأسئلة التي سوف تطرحها على هؤلاء الأشخاص؟




ترغب في شراء سيارة، واحد اصدقائك لديه سيارة يرغب في بيعها. ما
الأسئلة التي تطرحها عليه قبل ان تقدم على شراء سيارته؟

قام احد السائقين بعمل حادث مروري ادى إلى اضرار مادية وجسدية
كبيرة. وكنت تعمل ضابط شرطة وتقوم بالتحقيق في هذا الحادث. ما
الأسئلة التي ستطرحها على السائق لكي تقف على الأسباب التي ادت إلى وقوع
مثل هذا الحادث؟







مهارة
إعادة التصميم







أعد تصميم الأشياء التالية لتكون أكثر فائدة وأسهل استخداماً إن كان ذلك داخل البيت أو في المجتمع المحلي الذي تعيش فيه.


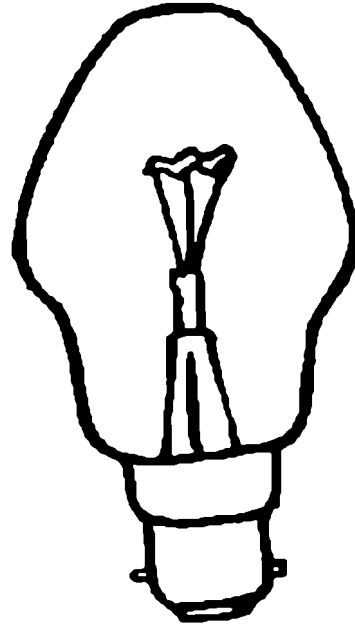
صنابير (حنفيات) المياه في البيت





حجم وموقع وشكل شبائيك البيوت





لمبات الإنارة في البيت



باص المدرسة



حاويات القمامة المنتشرة في الشوارع



حاول تصميم قطعة ااثا جديدة وغير موجودة حتى الآن في عالم الأثاث،
وتعتقد انها ستكون مريحة جدا ومفيدة.

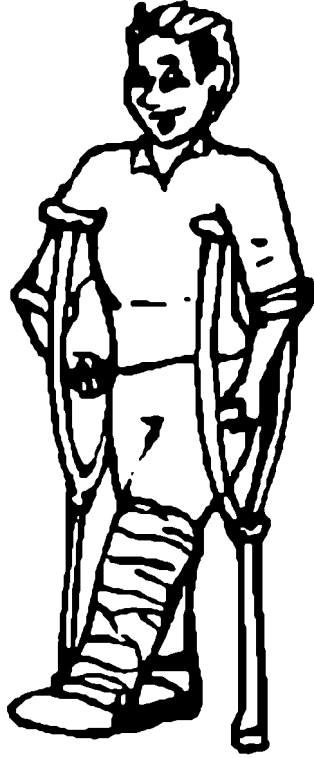


مهارة تحديد المشكلات المستقبلية





احد زملائك يرغب في مرافقتك في رحلة. ولكن قدمه مكسورة نتيجة لحادث سابق. وبالتالي فهو يستخدم العكازات. ما هي المشكلات التي يمكن أن تظهر إذا خرجتما معا؟.




استطاع احد الأشخاص اكتشاف جهاز جديد يجعل قائد السيارة يعتمد عليه بشكل كلي اثناء قيادته للسيارة (قائد الي). ما المشكلات المستقبلية المتوقع ظهورها؟




ما المشكلات المستقبلية المتوقع ظهورها نتيجة لغلاء المهور؟



ما المشكلات المستقبلية المتوقع ظهورها نتيجة السماح للأشخاص في عمر
14 سنة بقيادة السيارات؟




ما المشكلات المتوقع ظهورها نتيجة إصدار قانون يمنع الاستيراد من الخارج؟





مهارة
تحليل التصاميم






لقلم الرصاص ست جهات وليس ثلاث او عشر جهات، لماذا؟



للشجرة آلاف الأوراق وليس اربع او خمس ورقات. لماذا؟




حجم صفحات الصحيفة اليومية أكبر من صفحات الكتاب. لماذا؟



تصنع أكواب الشرب من الخزف وليس من الحديد، لماذا؟



يُستخدم اللون الأحمر للدلالة على الخطر. لماذا؟



منتدى سور الأزبكية

WWW.BOOKS4ALL.NET

<https://www.facebook.com/books4all.net>